

BÖLME İŞLEMİ (PAYLAŞTIRMA, GRUPLANDIRMA)


Canlarım, meyveleri istenilen sayıda paylaştırınız ve altına grup sayılarını yazınız.

1) Çilekleri ikiye bölerek gruplandırınız.




Çilekleri ikiye bölerek gruplandığı zaman; gruba çilek düşer.

2) Kirazları beşerli gruplandırınız.



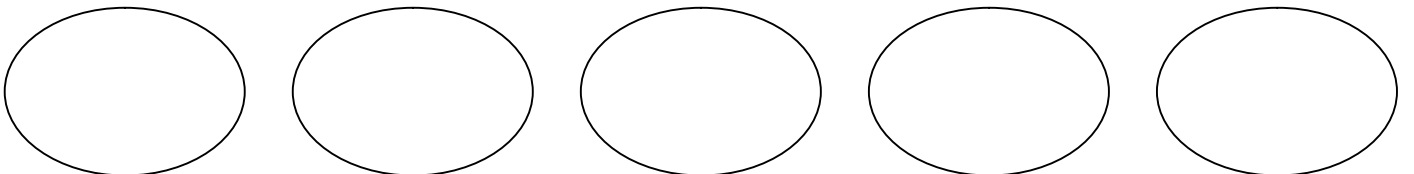
Kirazları beşerli gruplandığı zaman; gruba kiraz düşer.

3) Elmaları dörderli gruplandırınız.



Elmaları dörderli gruplandığı zaman; gruba elma düşer.

4) 15 armudu 5 çocuk eşit olarak paylaşıyorlar. Her çocuk kaç armut alır?



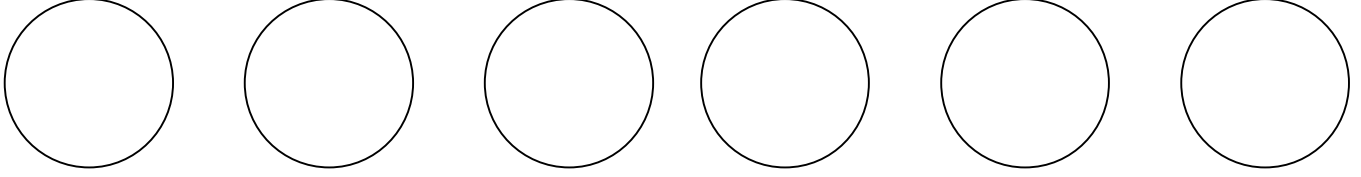
$15 - 5 = \dots\dots$

$10 - 5 = \dots\dots$

$5 - 5 = \dots\dots$

5 çocuğa armut düşer.

5) 18 üzümü 6 kişi eşit olarak paylaşıyorlar. Kaçar üzüm düşer? (tabaklara okla taşıyın)



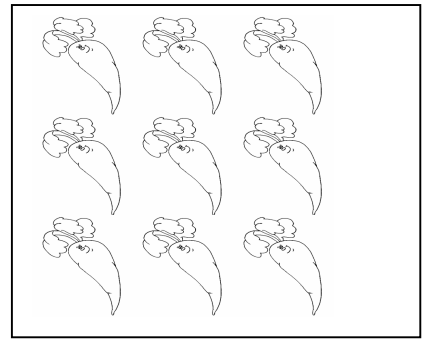

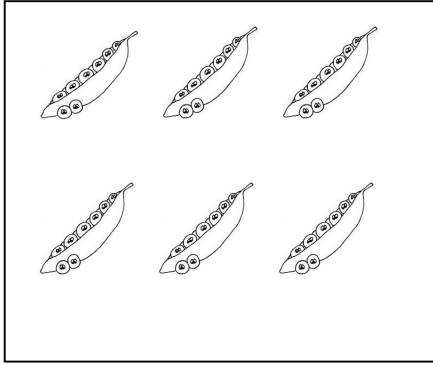
$18-6= \dots\dots$

$12-6= \dots\dots$

$6-6= \dots\dots$

6 kişiye üzüm düşer.

6. Aşağıdaki meyveleri üçerli gruplandırınız ve altına kaç grup oluşturduklarını yazınız.

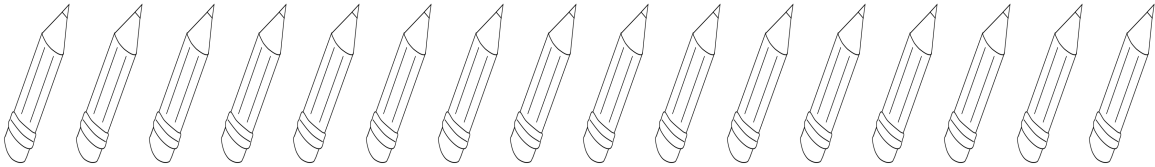


Grup sayısı:.....

Grup sayısı:.....

Grup sayısı:.....

7. Aşağıdaki kalemleri bardaklara eşit olarak paylaştıralım. Kaçar kalem düşer?



$16 - 4 = \dots\dots\dots$

.....

.....

.....

Her bardağa kalem koydum.

Habibe AVCI